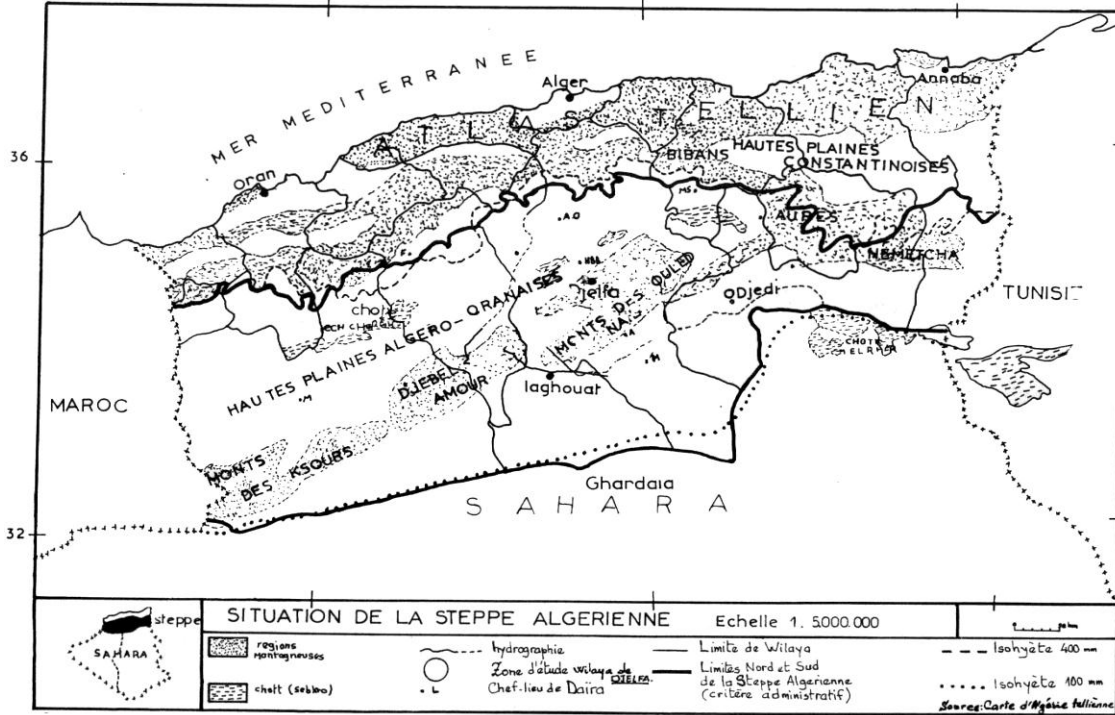


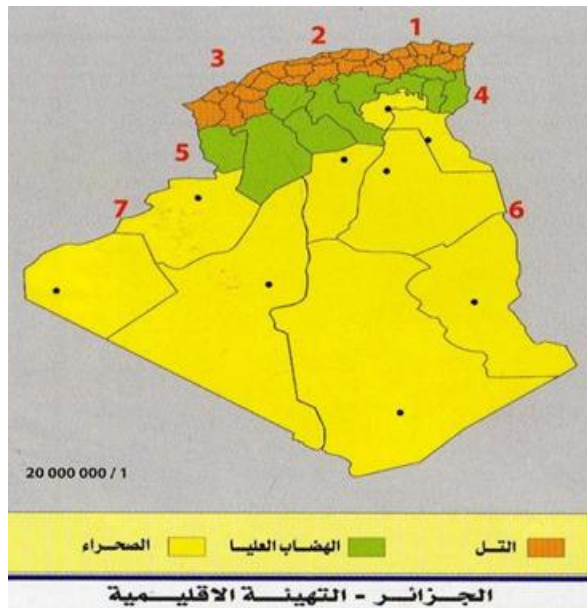
إقليم السهوب

إقليم السهوب بالجزائر و يسمى ايضا بالهضاب العليا يقع بين الأطلس التلي و الاطلس والصحراوي (صورة رقم 1) وهي سلاسل جبلية.

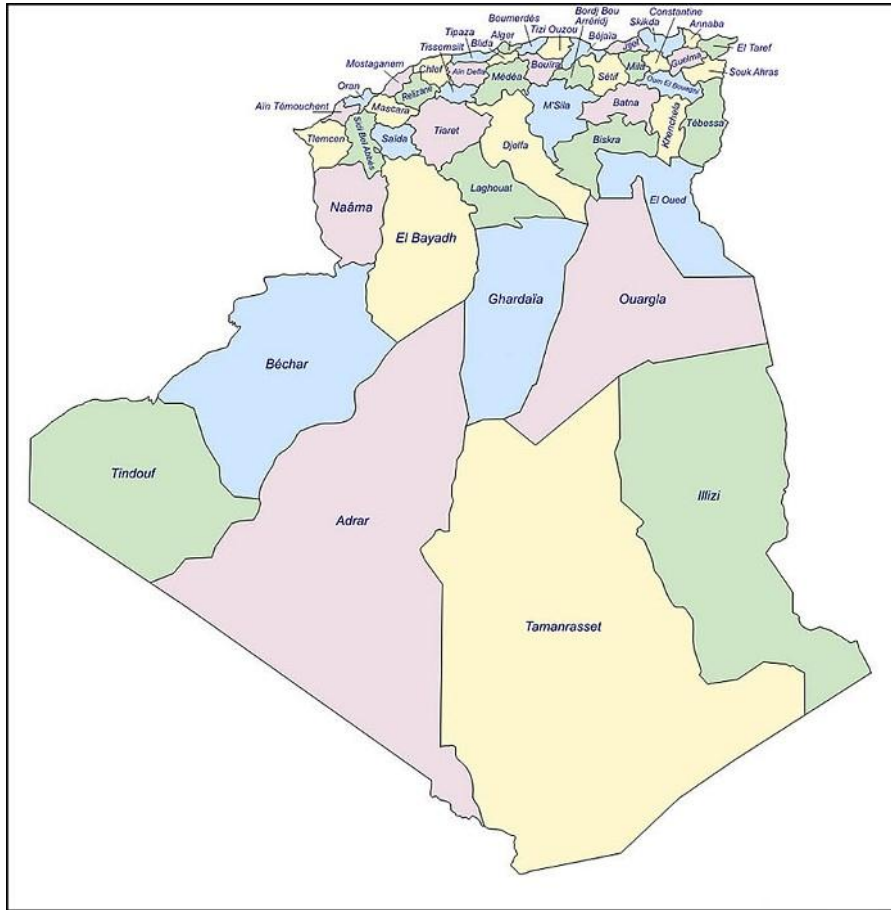


صورة 1. تمثل تمركز اقليم السهوب بالجزائر

يمتد من الشرق الى الغرب ليشمل 14 ولاية من الوطن و هي تبسة- خنشلة - باتنة - ام البواقي - سطيف - برج بوعريريج - مسيلة الجلفة- الاغواط تيسمسيلت- البيض- تيارت- سعيدة و النعامة ويغطي أكثر من 20 مليون هكتار ، منها 12 مليون عبارة عن مساحات رعوية.



صورة رقم 2. الاقاليم النباتية في الجزائر



صورة رقم 3. التقسيم الإداري في الجزائر

تسوده تربة فقيرة (من الأملاح المعدنية والمواد العضوية) مع تواجد الكلس بنسب معتبرة وأخرى ملحية (تربة الشطوط) و التي لا تساعد على نمو النبات. تمتاز تربة السهوب بكونها تربة هشة. تنتشر به السباح. يتراوح معدل التساقط في هذا الإقليم ما بين 300 و 500 مم في السنة والذي يكون أساسا في فصل الشتاء وفترة الجفاف فيه طويلة والحرارة مرتفعة خاصة في فصل الصيف.

وتظهر التشكيلات النباتية في هذا الإقليم على شكل تجمعات كثيفة أو متفرقة من الأعشاب والحشائش القصيرة والشجيرات في المناطق غير الصالحة للزراعة، وتتميز بأهميتها الرعوية حيث يعتبر هذا الإقليم نطاق المراعي الطبيعية الأول في الجزائر، وموردا طبيعيا متجددا تستفيد منه أهم قطعان الثروة الحيوانية في الجزائر وخاصة الأغنام، كما يلعب الغطاء النباتي في هذا الإقليم دورا في حماية البيئة الطبيعية والمحافظة على التربة من التعرية. واهم الأنواع النباتية السائدة فيه هي الحلفاء على نحو 4 مليون هكتار و التي تلعب دورا اقتصاديا هاما فتعتبر مادة أولية لصناعة الورق و كذلك فهي مراعي طبيعية للعديد من رؤوس الاغنام، إلى جانب الشيح، السدر و نباتات اخرى شوكية. نباتاته قليلة لقلة الأمطار وفقر التربة. كما يتميز هذا الإقليم بكونه أهم المناطق لإنتاج الحبوب في الجزائر.

عموما فان الغطاء النباتي في الجزائر يعاني من التدهور وانخفاض الإنتاجية. اذ أصبحت ظاهرة زحف الرمال مع تصاعد عملية التعرية و التصحر تهدد أراضي السهوب بسبب قلة الأمطار والجفاف الطويل ضف الى ذلك عوامل بشرية و على راسها الاستغلال الغير الرشيد و خاصة الرعي الجائر و الحرث العشوائي الذي أدى إلى اندثار وندرة العديد من الأنواع النباتية المكونة للغطاء النباتي السهبي.

المطلوب

- 1- ما هي الفكرة الاساسية التي يدور حولها النص
- 2- ما تعريفك لإقليم السهوب
- 3- ما المقصود بالتربة الهشة
- 4- ما معنى الرعي الجائر
- 5- كيف نحافظ على اقليم السهوب
- 6- ماذا تستنتج
- 7- قم بترجمة النص من اللغة العربية الى اللغة الفرنسية
- 8- عند الانتهاء من الاجوبة قم بترجمتها الى اللغة الفرنسية (مع ترجمة الاسئلة كذلك)